












నిర్మాణాత్మక మూల్యాంకనము - ఫార్మాటివ్ ఆసెస్మెంట్-2 (FA 2) - 2015-16

పేరు :	విషయము : తెలుగు		
తరగతి : 3	మార్కులు - 20	పొందిన మార్కులు -	గ్రేడు -

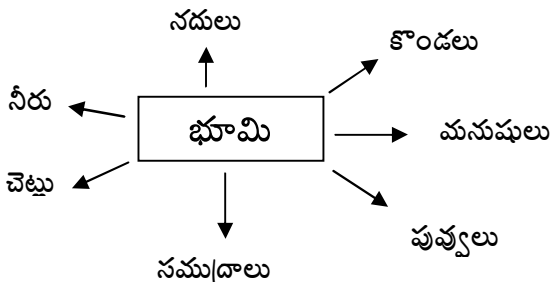
లఘు పరీక్ష

I. క్రింది బొమ్మలను పరిశీలించి సమాధానాలు వ్రాయండి (5 మా)

ఒక రోజు ఒక  ఒక  ను పట్టుకుంది.  నోటిలోని  జారిపోయింది. చేప ఏదని   ను అడిగింది. నాకు తెలియదు  ను అడగమంది.  నాకు తెలియదు  ను అడగమంది.  నాకు తెలియదు  ను అడగమంది. దానిని అడిగితే నీ పొట్టలో ఉంటుంది చూసుకో పో! అంది.

1. కొంగ ఏమి పట్టుకుంది ?
2. తాబేలు ఏమని చెప్పింది ?
3. ఏనుగు ఏమని చెప్పింది ?

II. పదజాలం - క్రింది పదాలతో వాక్యాలు వ్రాయండి (5 మా)




III. ఏకవచనం - బహువచనం వ్రాయండి (5 మా)

- | | | |
|------------|-------------|---------------|
| 1. తలుపు - | 2. కిటికీ - | 3. వెంట్రుక - |
| 4. అద్దం - | 5. బల్ల - | |

IV. భాష - క్రింది పేరాను చదివి(.) ను న్నరైనచోట ఉంచండి (2మా)

కొడవలూరు మండలం లోని బొడ్డు వారిపాళెం గ్రామంలో హనుమంతుని ఫోటో పెట్టారు అలంకారం చేశారు గ్రామంలోని వారు అందరూ పూజలు చేశారు ప్రసాదం పెట్టారు

V. గాంధీ గురించి 3 వాక్యాలు వ్రాయండి (3మా)



నిర్మాణాత్మక మూల్యాంకనము - ఫార్మాటివ్ ఆసెస్మెంట్-2 (FA 2) - 2015-16

పేరు :	విషయము : గణితము		
తరగతి : 3	మార్కులు - 20	పొందిన మార్కులు -	గ్రేడు -

లఘు పరీక్ష

1. క్రింద ఇవ్వబడిన సంఖ్యలు ఏ సంఖ్యల మధ్య ఉన్నాయో గుర్తించి 'ం' చుట్టండి (3 మా)

ఉదా : 120	100-150	150-200	50-100
1) 94	50-60	90-100	80-90
2) 926	900-950	800-850	950-1000
3) 377	300-350	400-450	350-400
4) 70	50-100	100-150	200-250

2. క్రింది సంఖ్యలకు విస్తరణ రూపాలను రాయండి (3 మా)

- (1) 927
- (2) 679
- (3) 720

3. లహరికు వాళ్ళ నాన్న రూ.225.00 లు, అమ్మమ్మ రూ.100.00 లు ఇచ్చారు. లహరి దగ్గర ఉన్న మొత్తం డబ్బులు ఎన్ని ? (2మా)

4.క్రింది కూడికలు చేయండి. (3 మా)

315	408	968
<u>296</u>	<u>94</u>	<u>770</u>
—	—	—

5.గణిత భాషలో వ్యక్తీకరించండి. ఉదా.24 = 20 + 4 (5 మా)

- 1) 47 = 2) 75 = 3) 99 =
- 4) 117 = 5) 254 =

6. తార్కిక ఆలోచన — మనసులో ఊహించి కొన్ని కూడికలు తయారు చేయండి (3మా)

- 1) 31 + =
- 2) + 49 =
- 3) 88 + =

నిర్మాణాత్మక మూల్యాంకనము - ఫార్మాటివ్ ఆసెస్మెంట్-2 (FA 2) - 2015-16

పేరు :	విషయము : పరిసరాలవిజ్ఞానము		
తరగతి : 3	మార్కులు - 20	పొందిన మార్కులు -	గ్రేడు -

లఘు పరీక్ష

I. క్రింది జంతువులలో మీ గ్రామములో ఉండేవాటికి " ✓ " పెట్టండి. (2మా)

కుక్క పంది ఆవు మేక గొర్రె కోడి పిల్లి పాము చేప కుందేలు సింహం గుర్రం

II. క్రింది బొమ్మలో ఏ ఏ భాగాలలో ఏ ఏ జంతువు ఉందో వ్రాయండి. (4 మా)





III. దోమలను నివారించుటకు ఎటువంటిజాగ్రత్తలు తీసుకోవాలి (2 మా)

IV. పక్షులకు జంతువులకు ఉండే తేడా ఏమిటి ? (2మా)

V. క్రింది వాటికి సమాధానంలు ఆలోచించిరాయండి. (4మా)

- 1. పెంపుడు జంతువులు - _____
- 2. ఎగిరేవి - _____
- 3. పాకే జంతువులు - _____
- 4. గూళ్ళు కట్టుకునేవి - _____

VI. (4మా)



VII. చెట్ల వలన ఉపయోగాలు తెలుపండి. (2 మా)

Formative Assessment - 2(FA2) - 2015 - 2016

Name :	Subject : ENGLISH		
Class : 3	Marks - 20	Marks Secured -	Grade -

SLIP TEST

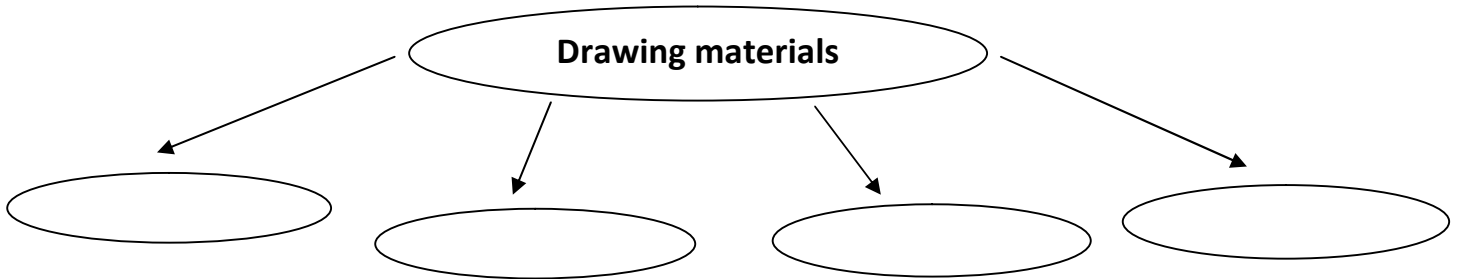
I. Write five lines about the pictures (5 M)



II. Write any five communications you know (3 M)

- 1.
- 2.
- 3.
- 4.
- 5.

III. Write any four Drawing materials you know (4 M)



IV. Write any four visiting places you want to visit in holidays (4 M)

V. Match the words (2 M)

- | | |
|--------|-------|
| Little | First |
| Hard | Far |
| Near | Big |
| Last | Soft |

VI. Write Plural words (2 M)

- | | |
|---------|----|
| Lip | -- |
| Picture | -- |
| Chair | -- |
| Mango | -- |