

నిర్మాణాత్మక మూల్యాంకనము - ఫార్మాటివ్ ఆసెస్మెంట్-2 (FA 2) - 2015-16

పేరు :	విషయము : తెలుగు		
తరగతి : 5	మార్కులు - 20	పొందిన మార్కులు -	గ్రేడు -

లఘు పరీక్ష

1. జాతీయ జెండాను ఎవరు రూపొందించారు. జాతీయ జెండా గురించి 4 వాక్యాలు వ్రాయండి (4మా)
- 2) మీ గ్రామములో పండించే పంటలలో ఒక పంటను ఎలా పండిస్తారో వ్రాయండి ? (3మా)
- 3) "రబ్బరు బొమ్మ" ఇందులో రెండో పదం వస్తువు. మొదటి పదం అది దేనితో తయరయ్యిందో చెబుతుంది. అలాంటి పదాలు వ్రాయండి (2 మా)

- 4) భాషను తెలుసుకొనుట — క్రింది వాక్యాలకు ప్రశ్నలు తయారుచేయండి (4 మా)

అభిలాష్ రింగ్ బాల్ చేతితో పట్టుకున్నాడు	
పూజిత మొక్కలు నాటింది	
రాజేశ్వరి లెక్కలు చేస్తున్నది	
కళ్యాణ్ నెల్లూరు నుండి వచ్చాడు	

- 5) పదజాలం- క్రింది పదాలను వరుస క్రమంలో ఉంచి వ్రాయండి (4 మా)

 - అ) బియ్యం, వడ్లు, బువ్వ, మిల్లు _____
 - ఆ) మేఘం, నీరు, ఆవిరి, వర్షం _____
 - ఇ) నీరు, తాడు, బావి, బక్కెట్టు _____
 - ఈ) ఇల్లు, పునాది, కప్పు, గోడ _____

- 6) క్రింది వాటిలో కర్తకర్మ, క్రియలను గుర్తించి కర్తకు 'ం', కర్మ కింద _____, క్రియకు ✓ పెట్టండి. (3 మా)

 - అ) జ్ఞానమ్మ వైష్ణవిని ఓడించింది. ఆ) సురేష్ కుమార్ వైష్ణవికి బహుమతి ఇచ్చాడు.
 - ఇ) మహేష్ మొక్కను నాటాడు.

నిర్మాణాత్మక మూల్యాంకనము - ఫార్మాటివ్ ఆసెస్మెంట్-2 (FA 2) - 2015-16

పేరు :	విషయము : గణితము		
తరగతి : 5	మార్కులు - 20	పొందిన మార్కులు -	గ్రేడు -

లఘు పరీక్ష

1) క్రింది ఖాళీలు పూరించండి ? (4మా)

సమస్య	భాగ ఫలం	శేషం
300 \div 100		
206 \div 100		
905 \div 100		
810 \div 100		

2) సమానమా కాదా చేసి చూడండి ? (2మా)

అ) $9 \times 8 = \underline{\hspace{2cm}}$ ఆ) $12 \times 8 = \underline{\hspace{2cm}}$
 $8 \times 9 = \underline{\hspace{2cm}}$ $9 \times 12 = \underline{\hspace{2cm}}$

3) ఒక కి.మీ. కు ఎన్ని మీటర్లు ? (1 మా)

4) $1/2$ (అర) కి.మీ. కు ఎన్ని మీటర్లు ? (1 మా)

5) ఒక ఇంటికి కిరాయి నెలకు రూ.950/-లు అయిన రెండు సంవత్సరాలకు కిరాయి ఎంత ? (3మా)

6) 154 రోజులలో ఎన్ని వారాలు ఉన్నాయి ? (2 మా)

7) భాగించండి మరియు గుణించండి (2మా)

i) $150 \div \underline{\hspace{1cm}} = 75$ ii) $75 \times 2 = \underline{\hspace{2cm}}$

8) మీ పాఠశాలలోని విద్యార్థుల సంఖ్యను గణన చిహ్నాలతో సూచించండి (5మా)



తరగతి	గణనచిహ్నాలు		
	బాలురు	బాలికలు	మొత్తము పిల్లలు
1			
2			
3			
4			
5			
మొత్తము			

Formative Assessment - 2 (FA2) - 2015-2016

Name :	Subject : ENGLISH		
Class : 5	Marks - 20	Marks Secured -	Grade -

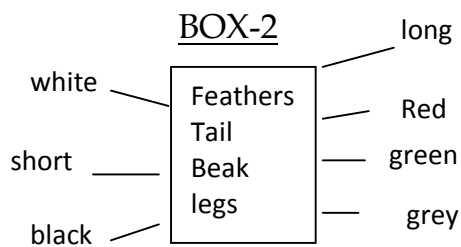
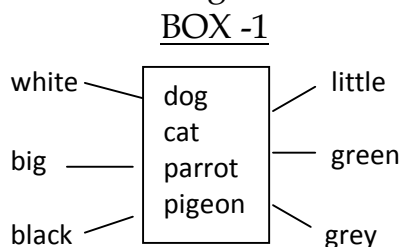
SLIP TEST

I. Writing – Look at the following pictures and write the story using the clues given
(Rabbit, Tortoise, friends, race, fast, slowly, sleep, win, slow, and, study) (5 M)



- 1.
- 2.
- 3.
- 4.
- 5.

II. Write meaningful sentences from Box 1 and Box 2 (5 M)



Ex : A white dog with black tail.

III. Answer the following questions (5 M)

1. Which animal / bird would you like to keep as pet ?
2. What is the name of your pet ?
3. What is its colour ?
4. How big is your pet ?
5. Which food gave to your pet ?

IV. Comprehension - Write any five rhyming words (5 M)

Ex : Fur – Pur

నిర్మాణాత్మక మూల్యాంకనము - ఫార్మాటివ్ ఆసెస్మెంట్-2 (FA 2) - 2015-16

పేరు :	విషయము : పరిసరాలవిజ్ఞానము		
తరగతి : 5	మార్కులు - 20	పొందిన మార్కులు -	గ్రేడు -

లఘు పరీక్ష

1)జ్ఞానేంద్రియాలను పటంలో గుర్తించండి.

(3 మా)



2)నీ కంటి రక్షణకు నీవు ఎలాంటి ఆహారం తీసుకుంటావు ?

(2మా)

3)శరీరంలో బయటకు కనబడే అవయవాలు, కనబడని అవయవాలు వ్రాయండి ?

(2మా)

బయటకు కనబడేవి	బయటకు కనబడనివి

4)కళ్ళు మూసుకుని నీవు గుర్తించగలిగిన కొన్ని పండ్లు, కూరగాయలు, పూలు, ఆకులు మొదలగునవి తెలుపండి.

(2మా)

5)మన శరీరంలో జరిగే కొన్ని వ్యవస్థల పేర్లు తెలుపండి.

(2మా)

6)గుండె ఎప్పుడు వేగంగా కొట్టుకుంటుంది ?

(2 మా)

7)క్రింది ఆహార పదార్థాలను తినే సమయంలో ఏ రకమైన దంతాలు ఉపయోగపడుతాయి. జతపరచండి (2మా)

ఆహార పదార్థం	ఉపయోగించే దంతాలు
1.ఆపిల్	నములు దంతాలు
2.చెరకు	కొరకు దంతాలు
3.మామిడి కాయ	విసురు దంతాలు
4.అన్నం	నములు దంతాలు

8)మూత్రపిండం పటం గీచి భాగాలు గుర్తించండి

(5మా)